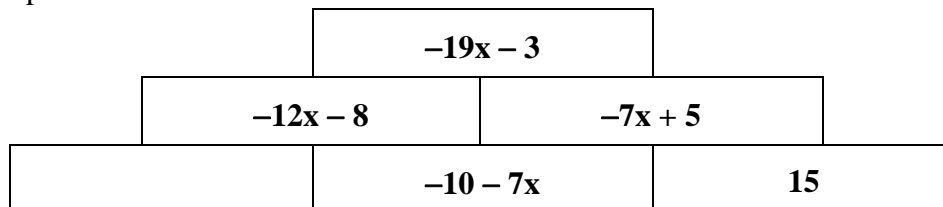




**6** Zeichne ein Rechteck mit dem Umfang  $u = 20 \text{ cm}$ , dessen Flächeninhalt  $16 \text{ cm}^2$  beträgt.

7	Ergänze den passenden Term.
---	-----------------------------



<b>8</b>	Beim Messen des menschlichen Pulses wird die Anzahl der Pulsschläge 15 s lang durch Abtasten ermittelt und daraus anschließend die Anzahl der Pulsschläge pro Minute berechnet. Klaus bestimmt auf diese Art seinen Puls mit 97 Schlägen pro Minute.
----------	--

Begründe mathematisch, warum dieser Wert nicht stimmen kann.

9 Gegeben ist die Bruchgleichung

$$\frac{6x}{x-25} = \frac{4}{9} \quad \text{mit } \mathbb{D} = \mathbb{Q} \setminus \{25\}.$$

Bestimme die Lösungsmenge der Bruchgleichung.

$$\mathbb{L} =$$

**10** Wie groß ist beim gleichzeitigen Werfen zweier Spielwürfel mit den Augenzahlen Eins bis Sechs die Wahrscheinlichkeit für einen Pasch?

(Ein Pasch bedeutet gleiche Augenzahl bei beiden Würfeln.)

 $\square \quad \frac{1}{6}$ 
$$\square \quad \frac{1}{36}$$
$$\square \quad \frac{1}{3}$$

□ Darüber ist keine Aussage möglich.

**11** In den beiden Städten Roding und Kempten wurden Jugendliche befragt. In Roding gaben 30% der Befragten an, ein *Snakeboard* zu besitzen, in Kempten waren es 50% der Befragten.

Dann besitzen also 40% aller Befragten ein *Snakeboard*.



Simon

Deine Behauptung gilt nur unter der Voraussetzung, dass ...

### Vervollständige Simons Aussage.

- 12 Tim trainiert für ein Radrennen. Auf einer Fahrradkarte wird für die Gesamtstrecke eine reine Fahrzeit von 3 h 40 min angegeben. Er macht nach 1 h auf einem Rastplatz eine kurze Trinkpause. Laut der Fahrradkarte sind für die Strecke Rastplatz – Ziel noch 1 h 40 min einzuplanen.

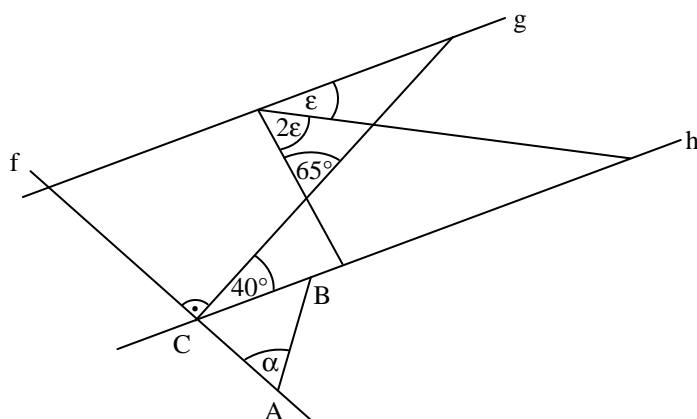
Wie lange ist Tim nach der Pause bis zum Ziel noch unterwegs, wenn er sein bisheriges Tempo beibehält und keine weitere Pause mehr macht?

Grid area for calculation.

\_\_\_/1

- 13 Ermittle die Winkelmaße  $\alpha$  und  $\epsilon$ , wenn gilt:  $\overline{AC} = \overline{AB}$  und  $g \parallel h$ .

Die Skizze ist nicht maßstabsgetreu.



Grid area for calculation.

$\alpha =$

$\epsilon =$

\_\_\_/1

\_\_\_/1

- 14 Gegeben ist der Term  $a \cdot b + c^2$  ( $a, b, c \in \mathbb{Q}$ ).

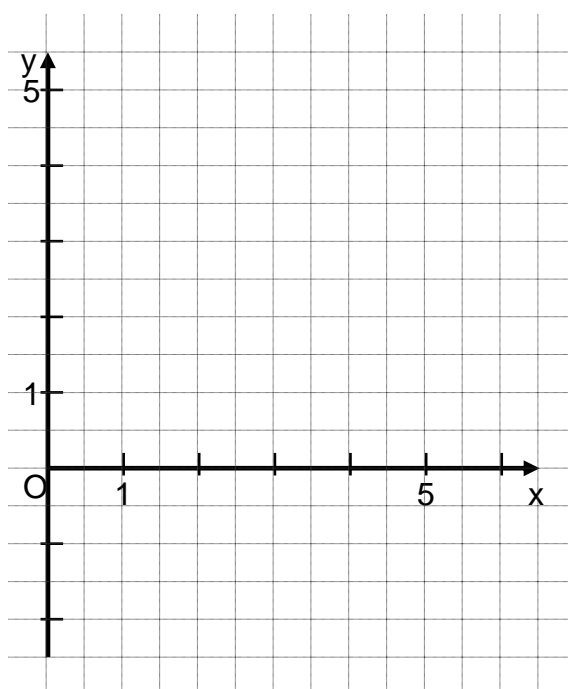
Kreuze die richtige Aussage an.

- ☐ Wenn  $a < 0$  und  $b < 0$ , dann ist  $a \cdot b + c^2 < 0$ .
- ☐ Wenn  $a$  oder  $b$  den Wert 0 hat, dann ist  $a \cdot b + c^2 \geq 0$ .
- ☐ Wenn  $c$  den Wert 0 hat und  $a > 0$  sowie  $b > 0$ , dann ist  $a \cdot b + c^2 < 0$ .
- ☐ Wenn  $a \cdot b = c^2$ , dann ist  $a \cdot b + c^2 < 0$ .

\_\_\_/1

- 15 Der Punkt  $C(0|2)$  ist von den Punkten  $A(3|-2)$  und  $B(4|y)$  mit  $y > 0$  ( $y \in \mathbb{Q}$ ) gleich weit entfernt.

Ermittle zeichnerisch die Lage des Punktes B.



\_\_\_/1

16

Es gilt:  $\overrightarrow{AB} = \begin{pmatrix} 3 \\ -5 \end{pmatrix}$

Gib mögliche Koordinaten für die Punkte A(2|y<sub>A</sub>) und B(x<sub>B</sub>|y<sub>B</sub>) mit y<sub>A</sub>, x<sub>B</sub>, y<sub>B</sub> ∈ ℚ an.

$A(2   \quad)$	$B(\quad   \quad)$
----------------	--------------------

\_\_\_/1

17

Herr Schnief steuert sein Auto mit einer konstanten Geschwindigkeit von 180  $\frac{\text{km}}{\text{h}}$  auf der Autobahn.

Ermittle, welche Strecke Herr Schnief „blind“ zurücklegt, wenn er einmal niest und während des Niesvorgangs die Augen schließen muss. Gib deinen Rechenweg an.

--

\_\_\_/1

18

Gib für den quadratischen Term die Art des Extremwerts, den Extremwert und die zugehörige Belegung von x an (x ∈ ℚ).

$$T(x) = -3 + (x - 2)^2$$

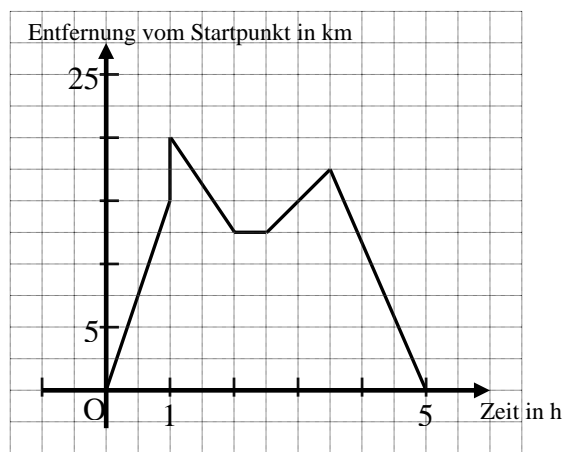
\_\_\_/1

19

Nachdem der Arzt Frau Müller geraten hat, sich mehr zu bewegen, macht sie eine Radwanderung in ebenem Gelände. Das Diagramm beschreibt die Tour, allerdings ist beim Zeichnen des Graphen ein Fehler passiert.

Markiere den Fehler im Diagramm und begründe, warum es sich um einen Fehler handelt.

--



\_\_\_/1

20

Kreuze die beiden richtigen Aussagen an.

- ☐ Jedes Parallelogramm hat vier gleich lange Seiten.
- ☐ Jedes Parallelogramm hat genau zwei Symmetrieachsen.
- ☐ Jede Raute ist ein Parallelogramm.
- ☐ Ein Parallelogramm ABCD ist durch Angabe der Koordinaten von drei Eckpunkten eindeutig festgelegt.
- ☐ Die Diagonalen in einem Parallelogramm stehen immer aufeinander senkrecht.

\_\_\_/1

**Viel Erfolg!**